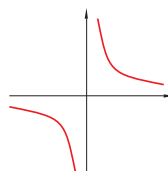
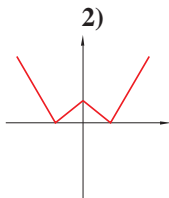


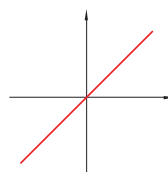
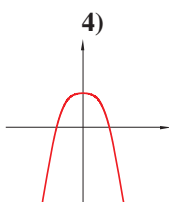
## Rješenja zadataka 2.5

**Zadatak 1.** Pozorno promotri dane grafove. Jesu li funkcije prikazane na tim grafovima parne ili neparne? Obrazloži odgovor.

1)



3)



**Rješenje.**

- 1) Funkcija je parna. Simetrična je obzirom na os  $y$ .
- 2) Funkcija je neparna. Simetrična je obzirom na pravac  $y = x$ .
- 3) Funkcija je parna. Simetrična je obzirom na os  $y$ .
- 4) Funkcija je neparna. Simetrična je obzirom na pravac  $y = x$ .